



# Teorija - 3.r

Ime i prezime:  
Ožujak 2020.

1. Napiši prirodnu g-mol ljestvicu uzlazno, stupnjeve, abecedu, solmizaciju te obilježi tetrakorde, polustepene i glavne stupnjeve.



2. Napiši ime note abecedom.



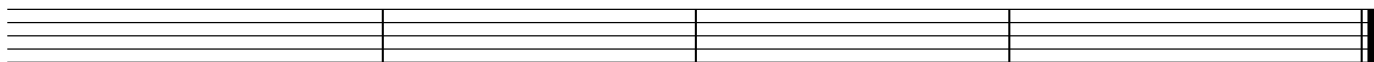
....

....

....

....

3. Napiši zadanu notu i pravi ključ u svakom taktu.




ais1

f

G

fes2

4. Imenuj interval po veličini (slovima i brojem).



....

....

....

....

....

5. Napiši interval na zadanom tonu uzlazno.



seksta6

septima7

oktava8

sekunda2

kvarta4

6. Imenuj interval po vrsti i veličini (č1, pov1, m2, v2, m3, v3, č4 i pov4).



....

....

....

....


....

....

....

....

7. Na zadanom tonu napiši zadani interval uzlazno.



č1

pov1

m2

v2

m3

v3

č4

pov4